

DESCUBRE LA ILLETA



Ficha Didáctica

FUNDACIÓN COMUNITAT VALENCIANA

MARQ

MUSEO ARQUEOLÓGICO DE ALICANTE



MUSEO EUROPEO
DEL CERÁMICO

MARQ

MUSEO ARQUEOLÓGICO DE ALICANTE



Colabora.



Obra Social "la Caixa"

Textos: Rafael G. Moya y Gema Sala. Maquetación: Lorena Hernández. Fundación C.V. MARQ, 2018



Para realizar las actividades tienes que ayudarte del plano de La Illeta.





EL COMERCIANTE IBERO

Bagarok acaba de llegar a La Illeta con su pequeña embarcación. Antes de partir, quiere llenar su barco de ánforas para venderlas en otros lugares. Cuantas más ánforas compre, más rentable será su viaje y mayores beneficios obtendrá. Por cierto... ¿sabes qué es un ánfora, no? Es un recipiente que termina en punta para poder adaptarlo a la bodega de un barco. El interior del ánfora contenía productos como salazones, cereales, aceite o vino.

Ayuda a Bagarok a conseguir el mayor número de ánforas. Para ello, te proponemos un juego muy divertido. Consiste en ir contestando una serie de preguntas a la vez que vas visitando el yacimiento de La Illeta. Por cada pregunta acertada obtendrás un número de ánforas. Cuantas más aciertes, mayor será el cargamento.

¡Ah! No olvides después pedirle a Bagarok que te lleve en su periplo comercial.



**1**

LA TUMBA

Hace unos 4.000 años en La Illeta existió un poblado de la Edad del Bronce. De él han quedado los restos de algunas tumbas. Dirígete al punto 1 del plano y responde a estas dos preguntas:

- 1 ¿Es una tumba de "incineración" (=cremación)
o de "inhumación" (=no cremación)

- 2 ¿Cuántos individuos hay enterrados: uno, dos, o más de dos?

**2**

LA CABAÑA

Dirígete al punto 2 del plano. Es el lugar donde hace unos 5.000 años se construyó una cabaña prehistórica que pertenecía a una pequeña aldea del Calcolítico o Edad del Cobre, período anterior a la Edad del Bronce. Contesta a estas preguntas:

- 1 ¿Cómo era la forma de la cabaña?

- 2 ¿Para qué podrían servir los dos contenedores que hay en el interior de la cabaña?

**3**

LA CISTERNA

A principios de la Edad del Bronce, se construyó una cisterna para abastecer de agua al pequeño poblado. Posteriormente, pasados unos 400 años, esta cisterna se modificó. Obsévala bien y elige cuál de estas dos afirmaciones es la correcta. Estás en el punto 3 del plano.

- A La cisterna tenía sus paredes de piedra y barro y se cubrió con un techo para conservar el agua.

- B Las paredes de la cisterna eran de roca viva y recubiertas de cal. Se hallaba a cielo abierto (sin cubrición) para que la lluvia la llenase directamente.

Ahora justifica tu respuesta:

**4**

EL ALMACÉN

Avanza ahora por la calle principal de La Illeta y sitúate frente al punto 4 del plano. Allí verás un largo edificio, un almacén, que tiene en su parte del fondo una serie de muretes en paralelo que crean 10 espacios alargados.

Demuestra tus habilidades para la deducción, igual como haría un arqueólogo, y responde a esta pregunta:

1 ¿Sabrías decirnos qué función tienen estos muretes?

Seguro que no ha sido muy difícil porque tienes la ayuda del panel. Pero ahora te vamos a poner a prueba, sin más ayuda que tus dotes de observación.

2 Colócate al inicio del almacén y retrocede hasta el inicio de la calle. Sólo tienes que fijarte en las estancias que hay entre el inicio de la calle y el almacén, es decir, tienes que contar cuántas estancias o habitaciones hay en el lado derecho de la calle principal hasta llegar al almacén.

3 Ahora vas a recorrer toda la calle, mirando a ambos lados. Dinos cuántas calles o callejones "transversales" hay a lo largo de la calle principal.



5 EL TEMPLO A

Busca entre todos los edificios de La Illeta el Templo A. se trata de un edificio grande que tiene dos columnas en la entrada y tres salas paralelas. Como es de imaginar, las columnas no se conservan enteras sino solamente la parte inferior de ellas. Cuando lo encuentres, mira el plano y apunta el número que corresponde a este edificio.



6 EL TEMPLO B

Ahora que ya conoces cómo es un templo de La Illeta, no te será difícil hallar otro templo (el Templo B). Búscalo tú solo y cuando estés delante de él, responde a las siguientes preguntas:

A Anota el número del plano que corresponde a este templo.

B ¿Para qué crees que pueden servir las dos plataformas de adobe que hay en el centro?

C Compara los dos templos y fijate en la siguiente diferencia: uno es "exento" (no tiene edificios adosados) y el otro no. ¿Cómo es cada uno?

El templo A:

El templo B:



7

VIVIENDA, LAGAR Y ALMAZARA

Los puntos 5, 6 y 7 del plano son edificios con distintas funciones. Uno era un lagar, es decir, un edificio donde se elaboraba el vino. Otro era una almazara, es decir, un lugar donde se producía el aceite. El tercero era una vivienda, que se compone de 4 pequeñas habitaciones y un patio con una columna en el centro y una cubeta en una esquina.

Con estas explicaciones ya tienes algunas pistas para poder identificarlos.

El edificio 5 es:

El edificio 6 es:

El edificio 7 es:

Ahora contesta a una pregunta de cada edificio.

- 1 LA VIVIENDA: ¿Cuántas entradas hay en la vivienda?
- 2 EL LAGAR: ¿Cómo se extraía el mosto para hacer el vino?
- 3 LA ALMAZARA: ¿Cómo se extraía el jugo de la aceituna para hacer el aceite?



8

LOS VIVEROS

La Illeta estuvo ocupada en época romana. Se conservan pocos restos. Unos de los más importantes son los "viveros", es decir, unas estructuras en forma de balsas en la línea de costa que servían para criar peces. En La Illeta hay dos zonas de viveros. Están marcadas con el punto 8 en el plano. Dirígete a esos puntos, observa los paneles y contesta a la siguiente pregunta:

¿Cuántas balsas puedes ver en total?



9

PANELES DE PAISAJE

Dirígete al panel A y al panel B del plano. Se trata de los perfiles topográficos de la línea de costa que se observa desde La Illeta. Obsérvalos bien y responde estas tres preguntas:

- 1 ¿Se puede llegar a ver la Isla de Benidorm desde La Illeta?
- 2 ¿Hacia qué dos puntos cardinales están orientados los viveros romanos?
- 3 ¿En qué dirección está el yacimiento del Tossal de Manises-Lucentum de la Albufera?

**10**

LA ZONA AJARDINADA

Para poder observar los viveros del extremo de La Illeta has tenido que pasar por una zona ajardinada (punto 10 del plano). Responde a estas preguntas sobre esta zona del yacimiento:

- 1 ¿La superficie ajardinada está cubriendo una parte del poblado que aún no se ha excavado?

- 2 ¿Por qué se ha cubierto esta zona de plantas y de grava?

- 3 Hay siete especies vegetales en el área ajardinada. Una de ellas la utilizaban antiguamente los marinos en sus largas travesías como alimento para evitar el escorbuto (una enfermedad producida por la falta de vitamina C). También se usaba para condimentar olivas y anchoas. Su nombre científico es *Crithmum maritimum*. Búscala en los paneles verdes y dinos cuál es su nombre común.

**11**

LAS TERMAS

Entre los restos romanos también se hallan unas pequeñas termas o baños que pertenecían a una "villa" privada. Las villas eran propiedades rurales de ricos romanos.

Acude al punto 11 del plano. Obsérvalas bien. Las termas se componían de tres salas principales: una de agua caliente (*caldarium*), otra de agua fría (*frigidarium*) y, la tercera, templada (*tepidarium*).

1. ¿Sabes cuál era el orden habitual de las salas cuando un romano entraba en unas termas? Elige la opción correcta:

A Primero se entraba en el *tepidarium*, después en el *caldarium* y finalmente en el *frigidarium*.

B Primero se entraba en el *frigidarium*, después en el *tepidarium* y finalmente en el *caldarium*.

C Primero se entraba en el *caldarium*, después en el *tepidarium* y finalmente en el *frigidarium*.

2. Ahora entra en las termas y pasa a las salas templada y caliente, las únicas que tenían un espacio hueco (*hipocaustum*) bajo el suelo para calentar las estancias. Fíjate bien en ellas y responde a esta pregunta:

¿Además del *hipocaustum* bajo el suelo, existía otra forma complementaria de calentar las salas?

12

PARA RESUMIR

Para finalizar, rodea las termas por el camino de salida y echa una ojeada al último panel. Después dirígete de nuevo a la "calle principal" del yacimiento porque allí vas a tener que realizar el último ejercicio. Si respondes correctamente a estas seis preguntas vas a obtener tantas ánforas que vas a poder llenar casi la mitad del barco de Bagarok. Así que... atento y ... adelante.

1 ¿En qué lugar de La Illeta hay una gruesa ánfora apoyada sobre un muro?














2 ¿En qué lugar de La Illeta hay un altar de piedra?

3 ¿En qué lugar de La Illeta hay un hogar doméstico?

4 ¿En qué lugar de La Illeta hay un gran horno circular (plataforma circular de piedra)?

5 ¿En qué lugar de La Illeta hay una reja de hierro colocada horizontalmente?

6 ¿Hay en La Illeta una "cisterna ibérica"? Si respondes afirmativamente, indica el número del plano.

EJERCICIO	10 ÁNFORAS 	MÁXIMO QUE PUEDES OBTENER
1		 10 ÁNFORAS
2		 10 ÁNFORAS
3		 15 ÁNFORAS
4		 25 ÁNFORAS
5		 5 ÁNFORAS
6		 15 ÁNFORAS
7		 45 ÁNFORAS
8		 10 ÁNFORAS
9		 30 ÁNFORAS
10		 30 ÁNFORAS
11		 35 ÁNFORAS
12		 70 ÁNFORAS
TOTAL:		300 ÁNFORAS